
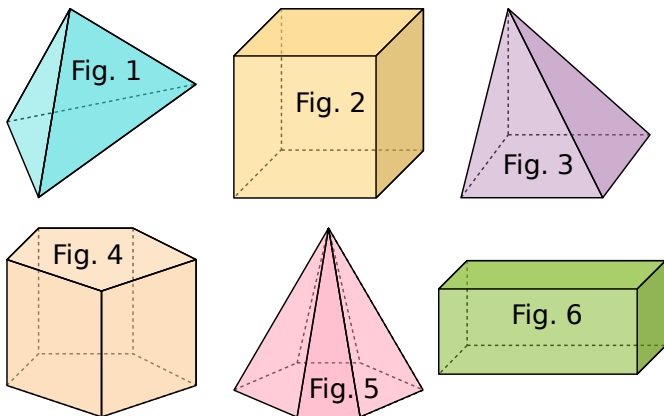


1 À quel solide peut-on assimiler chacun des objets suivants ? Remplis le tableau.



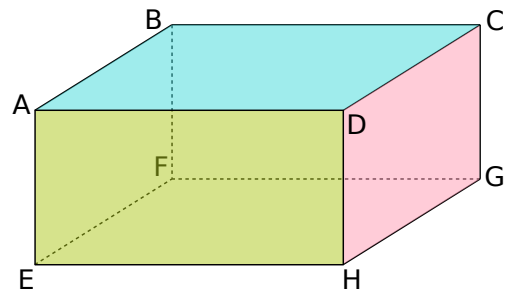
Cube	Pavé droit	Cylindre	Cône	Sphère

2 Complète le tableau.



	Nombre de sommets	Nombre d'arêtes	Nombre de faces
Fig. 1			
Fig. 2			
Fig. 3			
Fig. 4			
Fig. 5			
Fig. 6			

3 On considère le pavé droit suivant.



a. Quel est le nom de ce solide ?

b. Quelle est la nature de ses faces ?

c. Quelles faces sont identiques ?

d. Nomme toutes ses arêtes.